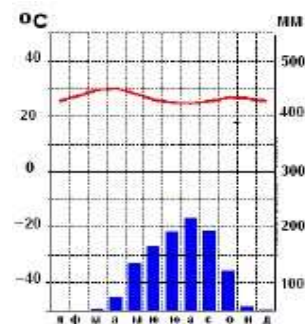


- 4. Най-обобщени/генерализирани карти са:** **2т.**
 А/ едромашабните В/ дребномашабните
 Б/ средномашабните Г/ тематичните
- 5. Кое от твърденията за меридианите е ГРЕШНО?** **2т.**
 А/ те са мислени линии В/ общият им брой е 360
 Б/ свързват Северния и Южния полюс Г/ имат различна дължина
- 6. Ориентирането означава да определите:** **2т.**
 А/ какво разстояние сте изминали, докато пътувате В/ на каква надморска височина сте
 Б/ местоположението си спрямо посоките на света Г/ отдалечеността си от Луната
- 7. Коя особеност на географската карта и на глобуса е обща за тях?** **2т.**
 А/ показват формата на Земята В/ демонстрират движенията на Земята
 Б/ имат само едър мащаб Г/ изобразяват земната повърхност
- 8. Каква е площта на планетата Земя?** **2т.**
 А/ 510 000 000 км² В/ 149 000 000 км²
 Б/ 361 000 000 км² Г/ 92 000 000 км²
- 9. В кой океан се пресичат Екваторът и Гринуичкият меридиан?** **2т.**
 А/ Тихи океан В/ Атлантически океан
 Б/ Индийски океан Г/ Северен ледовит океан
- 10. Най-късият ден и най-дългата нощ в южното полукълбо настъпва на:** **2т.**
 А/ 22 юни Б/ 22 декември В/ 21 март Г/ 23 септември
- 11. Къде в земната вътрешност температурата е най-висока?** **2т.**
 А/ в земната кора Б/ в земното ядро В/ в мантията Г/ в хидросферата
- 12. В кой от отговорите полезните изкопаеми са САМО от групата на ГОРИВАТА?** **2т.**
 А/ диаманти и мрамор В/ злато и сребро
 Б/ нефт и природен газ Г/ варовик и въглища
- 13. Кои от ветровете не променят посоката си и се наричат постоянни?** **2т.**
 А/ мусони Б/ урагани В/ бризи Г/ пасати
- 14. Как се нарича графичното изображение на фигурата:** **2т.**
 А/ хидрограма
 Б/ климатограма
 В/ картодиаграма
 Г/ картосхема
- 15. Коя планета НЕ принадлежи към вътрешните?** **2т.**
- А/ Меркурий Б/ Земя В/ Венера Г/ Сатурн
- 16. Кое от следните изделия НЕ може да се произведе от нефт?** **2т.**
 А/ пластмаса Б/ бензин
 В/ стъкло Г/ каучук



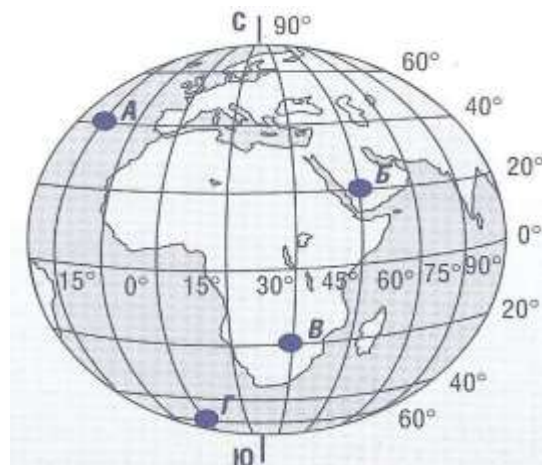
17. Определете географските координати на т. Б:**2т.**

А/ 20°с.ш. 45°и.д.

Б/ 20°ю.ш.45°з.д.

В/ 40°с.ш. 15°з.д.

Г/ 60°ю.ш. 0°д.

**18. Коя от изброените скали е метаморфна?****2 т.**

А) гранит

Б) варовик

В) мрамор

Г) глина

19. Коя от посочените групи съдържа само изпъкнали земни форми?**2т.**

А/ планини и низини

В/ планини и плата

Б/ планини и котловини

Г/ планини и депресии

20. В каква посока намалява температурата по земната повърхност?**2т.**

А/ от Екватора към полюсите

В/ от полюсите към Екватора

Б/ от тропиците към Екватора

Г/ от вътрешността към крайбрежията

21. В таблицата срещу името на всеки откривател запишете буквения код на неговото откритие:**5т.**

А) покорява Антарктида

Б) покорява Северния полюс

В) открива Новия свят

Г) открива нов път към Индия

Д) извършва първото околосветско пътешествие

№	Откривател	Буквен код
1	Христофор Колумб	
2	Вашку да Гама	
3	Фернандо Магелан	
4	Руал Амундсен	
5	Робърт Пири	

22. Абсолютната височина на връх Ботев е 2376 метра. Абсолютната височина на град Калофер е 600 метра. Изчислете относителната височина на връх Ботев спрямо Калофер:

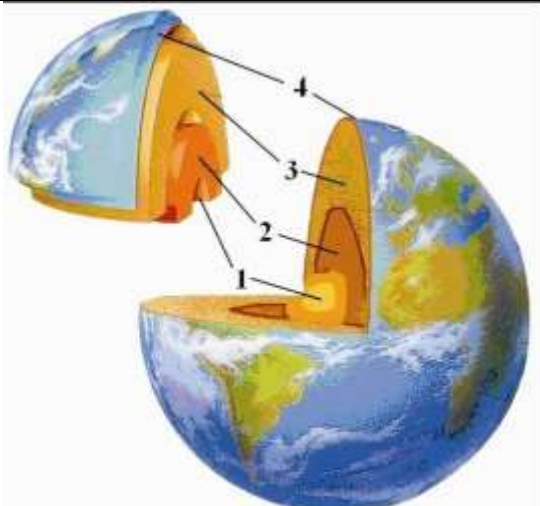
5т.

23. Географската обвивка на Земята, в чиито предели е възникнал живота на Земята, се нарича:

4т.

24. Кой слой от вътрешния строеж на Земята е отбелязан на фигурата с цифрата 1?

3т.

<p>А) вътрешното ядро Б) земната мантия В) земната кора Г) външното ядро</p>	
---	---

25. Дадени са анаграми* на крайбрежни форми на релефа. Кои са те?

4т.

А/ зивла -----

В/ вопотулсор -----

Б/ роптко -----

Г/ овсрто - - - - -

*Анаграма е вид игра на думи състояща се в пренареждане на буквите от дума или фраза така, че да се образува нова дума или фраза като всяка буква се използва само веднъж

26. Изчислете температурната амплитуда на място, където най-високата денонощна температура е 20°C, а най-ниската е 2°C:

4т.

Отговор:.....

27. С кой от изображените знаци се обозначава находище на медна руда ?

5т.

А/  Б/  В/  Г/ 

28. Мащабът на картата показва:

3т.

А/ кои са основните посоки на света

Б/ колко пъти са умалени действителните разстояния

В) какви са географските координати на обекти

Г/ кои са способите за картографиране

29. Отбележете с „+“ факторите на климата и с „-“ елементите на климата:

7 т.

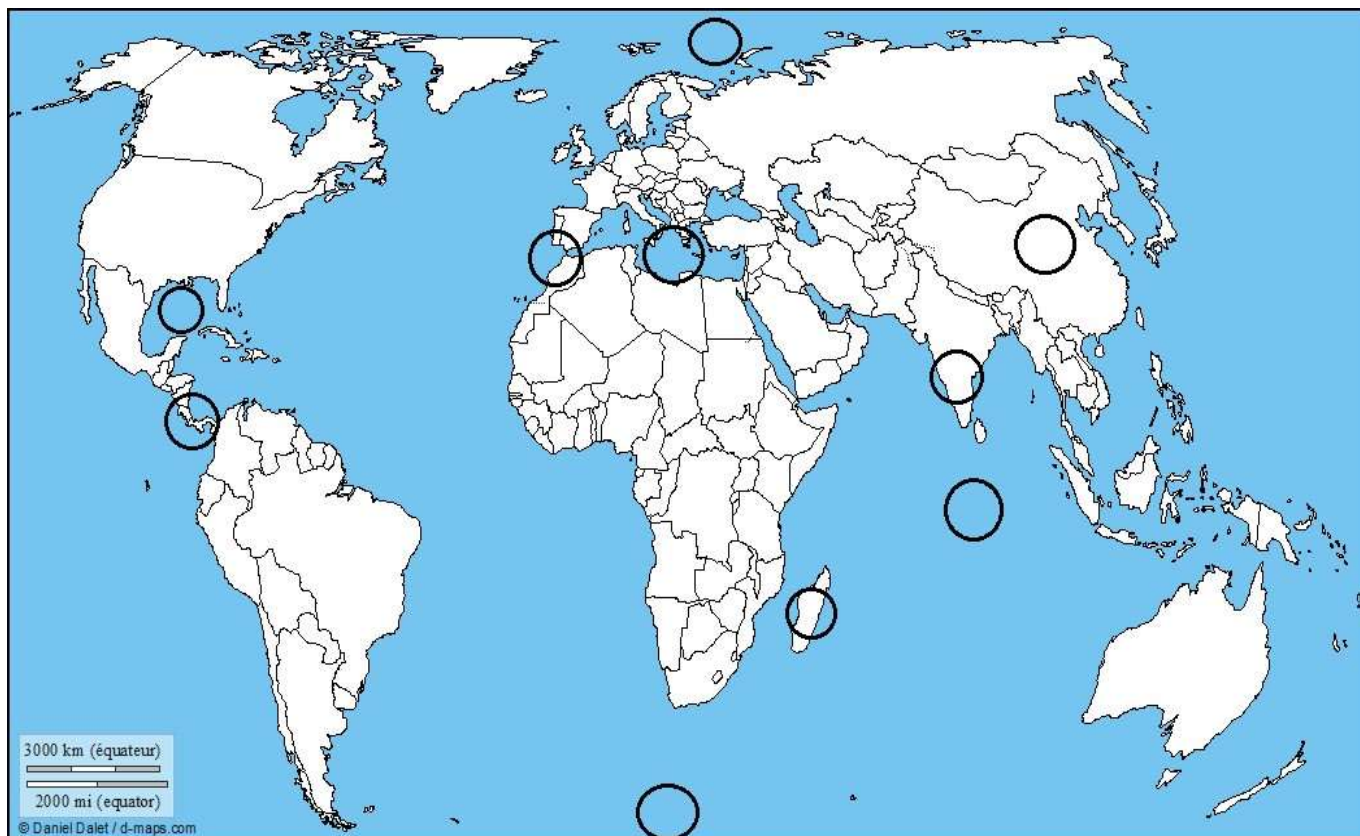
- валежи
- температура на въздуха
- географска ширина
- ветрове
- въздушни маси
- релеф
- отстоянието от моретата и океаните

30. На контурната карта с цифровите кодове от 1 до 10 нанесете посочените географски обекти:

10x2т.

1. Мексикански залив
2. Полуостров Индостан
3. Остров Мадагаскар
4. Арктика
5. Антарктика

6. Панамски провлак
7. Гибралтарски проток
8. Индийски океан
9. Средиземно море
10. Китай



БЛАГОДАРИМ ВИ ЗА УЧАСТИЕТО И СТАРАНИЕТО !

Ученик /трите имена/:.....

Училище Клас град

Квестор, приел работата:

Комисия по проверка и оценка:


1.....бр.т

2.....бр.т

Общ брой точки:

ОЛИМПИАДА ПО ГЕОГРАФИЯ И ИКОНОМИКА – 15.01.20.. г. – V клас
Ключ на верните отговори

№ зада ча	Верен отговор	Бр. точки
1	А	2
2	Г	2
3	Г	2
4	В	2
5	Г	2
6	Б	2
7	Г	2
8	А	2
9	В	2
10	А	2
11	Б	2
12	Б	2
13	Г	2
14	Б	2
15	Г	2
16	В	2
17	А	2
18	В	2
19	В	2
20	А	2
21	1-В 2-Г 3-Д 4-А 5-Б	5x1=5
22	1776 м	5
23	Хидросфера	4
24	А) вътрешно ядро	3
25	А/ залив Б/ проток В/ полуостров Г/ остров	4x1=4
26	18°C	4
27	Б	5
28	Б	3
29	- Валежи - Температура на въздуха + Геогр. ширина - Ветрове	7x1=7

	+ Въздушни маси + Релеф + Отстояние от морета и океани	
30		10x2=20

Максимален брой точки за теста – 100 точки. За участие в областния кръг се допускат ученици, събрали най-малко 80 % от максималния брой точки, т. е. 80 точки.